



Nombre: _____

Fecha: _____

PROBLEMAS CON DATOS TRAMPA

Un agricultor tiene un terreno cuadrado de 50 metros de lado. Ha plantado 12 filas con 25 plantas de tomates en cada una. Para regarlas, utiliza un tanque con 1.500 litros de agua. ¿Cuántas plantas de tomates ha plantado en total?


Los datos

Datos trampa



La operación:

La solución:



Nombre: _____

Fecha: _____

PROBLEMAS CON DATOS TRAMPA

En un maratón solidario participan 350 corredores. La inscripción cuesta 12 euros por persona. El circuito tiene una longitud de 10 kilómetros. Si 42 corredores se retiran por el cansancio antes de llegar a la meta, ¿cuántos corredores consiguen terminar la carrera?


Los datos

Datos trampa



La operación:

La solución:



Nombre: _____

Fecha: _____

PROBLEMAS CON DATOS TRAMPA

Doña Ana abrió su tienda a las 8:00 de la mañana. Preparó 5 bandejas con 12 cruasanes en cada una. Si vende cada cruasán a 2 euros, ¿cuántos cruasanes preparó en total?


Los datos

Datos trampa



La operación:

La solución:



Nombre: _____

Fecha: _____

PROBLEMAS CON DATOS TRAMPA

En una tienda de videojuegos hay 4 estanterías. Cada estantería mide 2 metros de largo y contiene 45 videojuegos. Si cada videojuego cuesta 15 euros, ¿cuántos videojuegos hay en total en las estanterías de la tienda?


Los datos

Datos trampa



La operación:

La solución:



Nombre: _____

Fecha: _____

PROBLEMAS CON DATOS TRAMPA

Un tren sale de la estación a las 14:30 h con 180 pasajeros a bordo. El billete de cada pasajero cuesta 22 euros. En la primera parada, bajan 45 personas y suben 18. ¿Cuántos pasajeros quedan en el tren después de la primera parada?


Los datos

Datos trampa



La operación:

La solución:



Nombre: _____

Fecha: _____

PROBLEMAS CON DATOS TRAMPA

Un agricultor tiene un terreno cuadrado de 50 metros de lado. Ha plantado 12 filas con 25 plantas de tomates en cada una. Para regarlas, utiliza un tanque con 1.500 litros de agua. ¿Cuántas plantas de tomates ha plantado en total?


Los datos

Datos trampa



La operación:

La solución:



Nombre: _____

Fecha: _____

PROBLEMAS CON DATOS TRAMPA

Mateo tiene 3 álbumes de cromos de fútbol. Cada álbum tiene espacio para 150 cromos. Esta mañana, su abuelo le ha regalado 25 cromos nuevos y su hermana le ha dado 12 cromos. ¿Cuántos cromos nuevos ha conseguido Mateo hoy?


Los datos

Datos trampa



La operación:

La solución:



Nombre: _____

Fecha: _____

PROBLEMAS CON DATOS TRAMPA

En una tienda de videojuegos hay 4 estanterías. Cada estantería mide 2 metros de largo y contiene 45 videojuegos. Si cada videojuego cuesta 15 euros, ¿cuántos videojuegos hay en total en las estanterías de la tienda?


Los datos

Datos trampa



La operación:

La solución:



Nombre: _____

Fecha: _____

PROBLEMAS CON DATOS TRAMPA

La biblioteca del barrio está a 4 calles de distancia de la casa de Dani. La biblioteca tiene 2 plantas y abre 6 días a la semana. En la sección infantil hay 120 libros de aventuras y 85 libros de misterio. ¿Cuántos libros hay en total en la sección infantil?


Los datos

Datos trampa



La operación:

La solución:



Nombre: _____

Fecha: _____

PROBLEMAS CON DATOS TRAMPA

Paula va a la piscina municipal 3 días a la semana. Su mochila de natación es de color azul y lleva dentro 2 toallas. Si hoy ha nadado 45 minutos por la mañana y 30 minutos por la tarde, ¿cuántos minutos ha nadado en total hoy?

Los datos

Datos trampa



La operación:

La solución: