

Descomposición numérica

Nombre: _____ Fecha: _____

¿QUIÉN TIENE?

- Tres centenas
- Dos decenas
- Cinco unidades

YO TENGO

325

¿QUIÉN TIENE?

- Seis centenas
- Nueve decenas
- Cero unidades

YO TENGO

690

¿QUIÉN TIENE?

- Cuatro centenas
- Una decena
- Siete unidades

YO TENGO


417

¿QUIÉN TIENE?

- Ocho centenas
- Tres decenas
- Dos unidades

YO TENGO

832



Descomposición numérica

Nombre: _____ Fecha: _____

¿QUIÉN TIENE?

- Cero centenas
- Cinco decenas
- Nueve unidades

YO TENGO

95

¿QUIÉN TIENE?

- Dos centenas
- Siete decenas
- Ocho unidades

YO TENGO

278

¿QUIÉN TIENE?

- Una centena
- Seis decenas
- Tres unidades

YO TENGO


163

¿QUIÉN TIENE?

- Cinco centenas
- Nueve decenas
- Siete unidades

YO TENGO

597



Descomposición numérica

Nombre: _____ Fecha: _____

¿QUIÉN TIENE?

- Cuatro centenas
- Tres decenas
- Una unidad

YO TENGO

431

¿QUIÉN TIENE?

- Siete centenas
- Cero decenas
- Seis unidades

YO TENGO

706

¿QUIÉN TIENE?

- Nueve centenas
- Tres decenas
- Dos unidades

YO TENGO


932

¿QUIÉN TIENE?

- Cinco centenas
- Dos decenas
- Nueve unidades

YO TENGO

529



Descomposición numérica

Nombre: _____ Fecha: _____

¿QUIÉN TIENE?

- Una centena
- Cinco decenas
- Cero unidades

YO TENGO

150

¿QUIÉN TIENE?

- Seis centenas
- Cuatro decenas
- Ocho unidades

YO TENGO

648

¿QUIÉN TIENE?

- Dos centenas
- Ocho decenas
- Siete unidades

YO TENGO

287

¿QUIÉN TIENE?

- Cero centenas
- Cuatro decenas
- Tres unidades

YO TENGO

43