

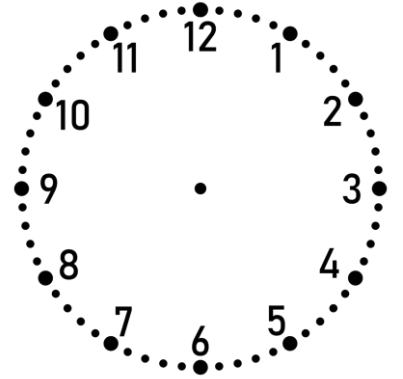


Nombre: _____

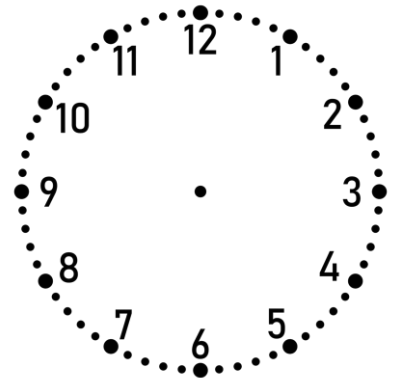
Fecha: _____

Lee cada enunciado y dibuja en el reloj, la hora por la que preguntan.

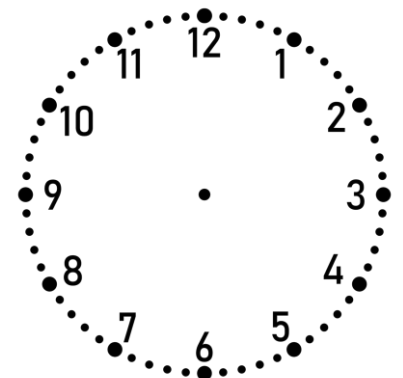
El gran derbi de fútbol estaba programado para las cinco de la tarde (17:00). Sin embargo, debido a la lluvia, el árbitro decidió retrasar el inicio 15 minutos. El partido consta de dos partes de 45 minutos (90 minutos en total), un descanso de 15 minutos y, al final, se añadieron 6 minutos de tiempo extra por lesiones. ¿A qué hora exacta pitó el árbitro el final?



Un grupo de excursión sale hacia la montaña a las ocho y veinte de la mañana. El viaje dura un total de 145 minutos. Sin embargo, a mitad de camino, el autobús debe parar 20 minutos en una gasolinera para descansar. ¿A qué hora llegarán a la cima de la montaña?



Un concursante empieza a cocinar su plato estrella a las once menos diez de la mañana. El jurado le da 85 minutos para cocinar. A mitad del proceso, el horno se estropea y el concursante pierde 12 minutos esperando a que lo arreglen, por lo que el jurado decide regalarle esos 12 minutos extra al final. ¿A qué hora debe presentar su plato?



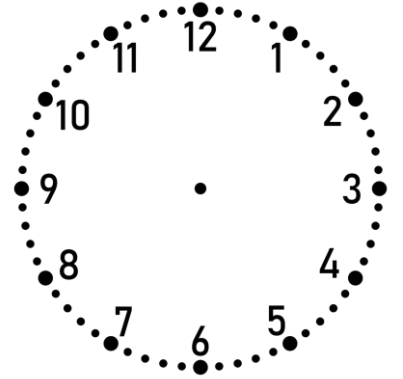


Nombre: _____

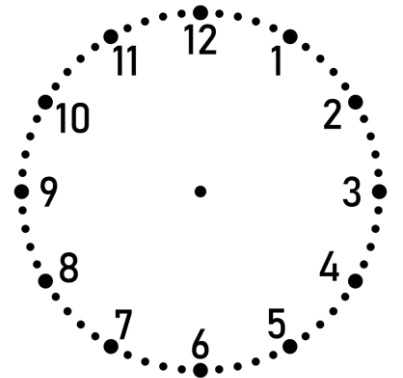
Fecha: _____

Lee cada enunciado y dibuja en el reloj, la hora por la que preguntan.

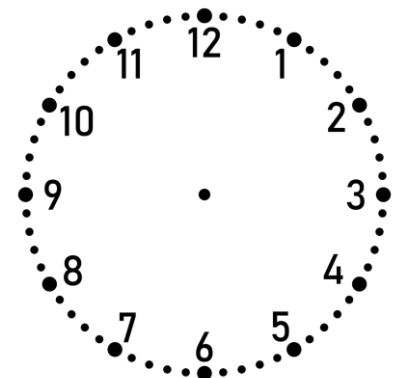
Un avión despegua de Madrid a las dos y cuarto de la tarde. El vuelo hasta París dura 105 minutos. Al aterrizar, los pasajeros deben esperar 50 minutos dentro del avión porque la puerta de la terminal está bloqueada. ¿A qué hora podrán finalmente bajar del avión?




Hugo quiere ver tres episodios de su serie favorita antes de cenar. Empieza a las seis y cuarto. Cada episodio dura 42 minutos, pero entre capítulo y capítulo siempre se toma un descanso de 5 minutos para ir a por agua. ¿A qué hora terminará de ver el tercer episodio?



Un examen de matemáticas comienza a las nueve y media. El examen tiene dos partes: una de problemas que dura 55 minutos y otra de cálculo mental que dura 20 minutos. Además, el profesor da 8 minutos extra al final para revisar el nombre y la ortografía. ¿A qué hora exacta recoge el profesor los exámenes?



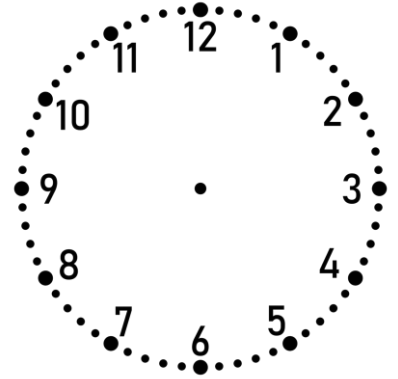


Nombre: _____

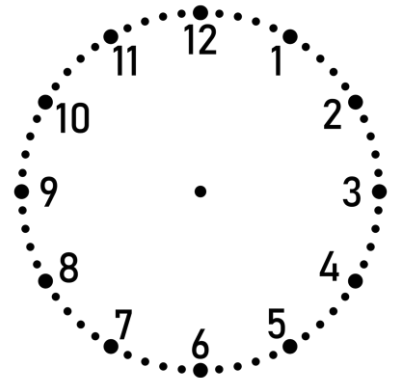
Fecha: _____

Lee cada enunciado y dibuja en el reloj, la hora por la que preguntan.

Un tren sale de la estación central a las once y diez. Debe hacer tres paradas antes de llegar a su destino: la primera tarda 12 minutos en llegar, la segunda 18 minutos más y la tercera 25 minutos adicionales. En cada parada, el tren se detiene 3 minutos para que suban pasajeros. ¿A qué hora llega a la última parada?



La familia de Ana quiere merendar un roscón recién hecho a las seis de la tarde (18:00). El tiempo de horneado es de 45 minutos, pero la masa necesita reposar fuera del horno 1 hora y cuarto antes de poder comerse. ¿A qué hora exacta debe meter Ana el roscón al horno para que esté listo justo a las seis?



La Fiesta "Fin de Curso" comienza puntualmente a las siete y media. El orden de las actuaciones es el siguiente: primero canta el coro de 3º durante 15 minutos, después actúan los alumnos de 4º con su teatro de 25 minutos y, luego, habrá una merienda que dura 35 minutos. Finalmente actuarán los alumnos de sexto. ¿A qué hora actuarán los alumnos de sexto?

