


# La circunferencia

Nombre: \_\_\_\_\_


Fecha: \_\_\_\_\_

**1** Dibuja:


 Diámetro:



 Radio:




 Cuerda:



**2** Mide los elementos anteriores.

- Diámetro: \_\_\_\_\_ cm
- Radio: \_\_\_\_\_ cm
- Cuerda: \_\_\_\_\_ cm



# La circunferencia


Nombre: \_\_\_\_\_ Fecha: \_\_\_\_\_


3 Dibuja:


- Una circunferencia de 3 cm de radio.
- Una circunferencia de 5 cm de diámetro.

4 Dibuja:

 Recta tangente:



 Recta exterior:



 Recta secante:

