

Problemas primer ciclo

Nombre: _____


Fecha: _____

- 1 En un parque de atracciones la entrada para niños cuesta 16 euros menos que la de adultos. Si la de adultos cuesta 43€, ¿cuánto cuesta la de niños?

Datos

- _____
- _____
- _____

Operación



Solución




- 2 El capítulo de una serie dura 55 minutos. Si ya hemos visto 28 minutos, ¿cuánto tiempo queda para que acaba el capítulo?

Datos

- _____
- _____
- _____

Operación



Solución




- 3 La pastelera de mi barrio hace todas las mañanas 62 palmeritas de chocolates y 39 de crema. ¿Cuántas palmeritas hace en total?

Datos

- _____
- _____
- _____

Operación



Solución




- 4 Juanjo tiene ahorrado 84€ en su hucha. Si su abuela, por las buenas notas que ha sacado le da 25€. ¿Cuánto dinero tiene Juanjo?

Datos


- _____
- _____
- _____

Operación



Solución





Problemas segundo ciclo


Nombre: _____ Fecha: _____

- 1 Un bote de detergente de 1,5 litros da para 20 lavados; y uno de suavizante de 1 litro, para 30. ¿Cuántos mililitros de cada producto debe verterse en la lavadora?

Datos

- _____
- _____
- _____

Operación



Solución




- 2 Luisa ha comprado un teléfono móvil que le ha costado 356€. Si al ir a pagar le han hecho un descuento de 25€ y ha pagado con siete billetes de 50€, ¿cuanto dinero le han devuelto?

Datos

- _____
- _____
- _____

Operación



Solución




- 3 Jimena ha comprado para su casa nueva dos alfombras que cuestan 45€ cada una y 6 cojines. Si ha pagado 168€, ¿cuánto cuesta cada cojín?

Datos

- _____
- _____
- _____

Operación



Solución

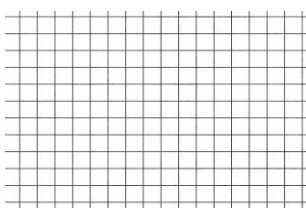


- 4 Luis ha marcado 5700 pulsaciones en una hora. ¿Cuántas pulsaciones ha tenido por minuto?

Datos


- _____
- _____
- _____

Operación



Solución





Problemas tercer ciclo

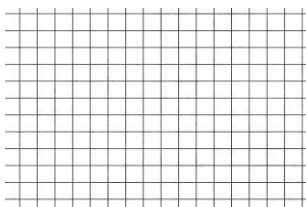
Nombre: _____ Fecha: _____

- 1 Un depósito tenía 620 litros de agua. Si se han gastado $\frac{2}{5}$ de lo que había, ¿qué cantidad de agua queda?

Datos

- _____
- _____
- _____

Operación



Solución




- 2 Un viaje en avión cuesta 55,24€ la ida y 63,18€ la vuelta. ¿Cuánto gastará una pareja y sus dos hijos en realizar dicho viaje?

Datos

- _____
- _____
- _____

Operación



Solución

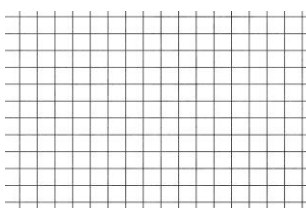


- 3 Un caracol se mueve aproximadamente 40 cm en una hora. ¿Cuántos días necesitaría para recorrer 5 km si duerme 18 horas cada día?

Datos

- _____
- _____
- _____

Operación



Solución




- 4 En una tienda hay 32 estanterías. Cada estantería tiene 18 frascos de miel, y cada frasco pesa 500 g. ¿Cuántos kilogramos de miel hay en la tienda?

Datos

- _____
- _____
- _____

Operación



Solución

