

Números enteros

Nombre: _____

Fecha: _____

1 Escribe el número entero que se puede asociar a cada uno de los siguientes enunciados:

- Luis debe a su hermano 38 €.

- La ciudad ha crecido en dos mil habitantes este año.

- El termómetro marca cuatro grados bajo cero.

- María se ha encontrado un billete de 50€ en la calle.


- La empresa reportó una pérdida de 10.000 euros en el último trimestre.

- Mi plaza de garaje está en la planta tercera subterránea del edificio.

- Me he gastado 89€ en la compra.

- Hoy, la temperatura máxima será de veinticinco grados.

- En la última parada de metro, se bajaron 46 personas.



Números enteros


Nombre: _____ Fecha: _____

2 Resuelve los siguientes problemas matemáticos:

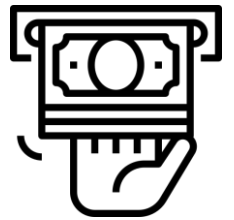
- En la ciudad de Ávila, la temperatura a las 6 de la mañana era de -5 grados. Durante el día, la temperatura subió 9 grados. ¿Cuál fue la temperatura máxima que se alcanzó?



- Un submarino se encuentra a 150 metros bajo el nivel del mar. Luego, asciende 70 metros. ¿A qué profundidad se encuentra ahora?



- La cuenta bancaria de Juan tenía un saldo de -200 euros. Si ingresó 350 euros, ¿cuál es su nuevo saldo?



- Miguel le debía a su amigo 30 euros. Luego, le pagó 18 euros. ¿Cuánto dinero le sigue debiendo Miguel?

