


Prueba de la división

Nombre: _____ Fecha: _____

Averigua cuándo Pinocho dice la verdad y cuándo miente; para ello, realiza la prueba de la división y colorea el dibujo cuando Pinocho diga la verdad.




$$\begin{array}{r} 97 \\ 17 \overline{) 8} \\ \underline{1} \\ 17 \\ \underline{17} \\ 0 \end{array} \rightarrow$$



$$\begin{array}{r} 76 \\ 16 \overline{) 3} \\ \underline{3} \\ 0 \end{array} \rightarrow$$




$$\begin{array}{r} 129 \\ 09 \overline{) 4} \\ \underline{4} \\ 0 \end{array} \rightarrow$$



$$\begin{array}{r} 108 \\ 08 \overline{) 5} \\ \underline{3} \\ 21 \end{array} \rightarrow$$




$$\begin{array}{r} 113 \\ 13 \overline{) 2} \\ \underline{1} \\ 13 \end{array} \rightarrow$$



$$\begin{array}{r} 244 \\ 04 \overline{) 6} \\ \underline{6} \\ 04 \end{array} \rightarrow$$



$$\begin{array}{r} 235 \\ 25 \overline{) 7} \\ \underline{3} \\ 25 \end{array} \rightarrow$$



$$\begin{array}{r} 491 \\ 41 \overline{) 9} \\ \underline{8} \\ 41 \end{array} \rightarrow$$

