










Tiempo atmosférico

Nombre: _____ Fecha: _____

Observa la siguiente tabla y responde a las preguntas:

LUN	MAR	MIÉ	JUE	VIE	SÁB	DOM
 16°C	 14°C	 11°C	 15°C	 20°C	 18°C	 16°C

- ¿Qué día de la semana hará más calor? _____
- ¿Qué día de la semana hará más frío? _____
- ¿Qué días de la semana lloverá? _____
- ¿Qué día de la semana soplará viento? _____
- ¿Qué día de la semana habrá tormenta? _____
- ¿Qué día de la semana estará soleado? _____
- ¿Qué tiempo hará el sábado? _____
- ¿Cuántos grados de temperatura habrá de diferencia entre el día que hace más frío y el que hace más calor? _____
- ¿A qué estación del año crees que pertenece este registro? ¿Por qué?

- ¿Qué ropa te pondrías el viernes según el tiempo? _____