

# Problemas de porcentajes

Nombre: \_\_\_\_\_


Fecha: \_\_\_\_\_

**1** En una clase de 30 alumnos, el 80% ha aprobado todo. ¿A cuántos alumnos les quedó pendiente alguna asignatura?

### Datos

- \_\_\_\_\_
- \_\_\_\_\_
- \_\_\_\_\_

### Operación



### Solución




**2** Un depósito con una capacidad de 25.000 litros se ha llenado hasta el 56% de su capacidad. ¿Cuántos litros le quedan por llenar para que esté completo?

### Datos

- \_\_\_\_\_
- \_\_\_\_\_
- \_\_\_\_\_

### Operación



### Solución




**3** Marina se va a comprar un abrigo que cuesta 158 € pero al llegar a la caja, la dependienta le informa de que tiene un 15% de descuento. ¿Cuánto le va a costar el abrigo a Marina?

### Datos

- \_\_\_\_\_
- \_\_\_\_\_
- \_\_\_\_\_

### Operación



### Solución




**4** En un pequeño pueblo de una población de 500 personas, el 45 % de habitantes son personas mayores; el 35% personas adultas y el resto, niños. ¿Cuántos niños viven en el pueblo?

### Datos

- \_\_\_\_\_
- \_\_\_\_\_
- \_\_\_\_\_

### Operación



### Solución

