

Coordinado y editado por:



@recursosep



@maestrasenlanube

# Proble**MÁTICAS** navideñas



Francisco J. Franco Galvín - @recursosep

# PROBLEMÁTICAS NAVIDEÑAS



## LA NAVIDAD DE GUILLE

Guille está muy contento porque faltan muy pocos días para las vacaciones de Navidad. Por fin podrá ver a sus primos, que viven en otro país, y celebrar también con ellos su cumpleaños el 9 de enero.

- 1** Completa estos calendarios con los números que faltan y responde a las preguntas:

DICIEMBRE						
L	M	X	J	V	S	D
	1	2			5	
		9	10			13
	15	16			19	
	22		24	25		27
28						

DICIEMBRE						
L	M	X	J	V	S	D
				1		
4	5		7		9	10
	12		14	15		17
		20		22		
25	26		28		30	31

- a) El día de Nochebuena es el  de .
- b) El día de Navidad es el  de .
- c) El día de Nochevieja es el  de .
- d) La noche de Reyes es el  de .
- e) El cumpleaños de Guille es el  de .

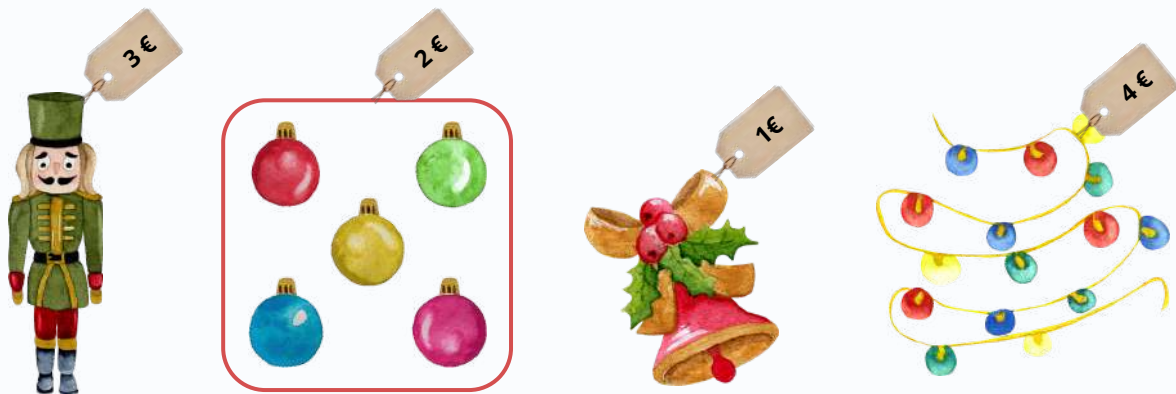
- 2** Hoy es 14 de diciembre. Rodea ese día en el calendario y responde:



# PROBLEMÁTICAS NAVIDEÑAS

- a) ¿Cuántos días quedan para Nochebuena?
- b) ¿Cuántos días quedan para Navidad?
- c) ¿Cuántos días quedan para Nochevieja?
- d) Cuando sea el día de Reyes, ¿cuántos días faltarán para el cumpleaños de Guille?

**3** Guille y su familia ya han comenzado a decorar la casa con adornos y han ido a comprar algunos nuevos.



Han comprado un muñeco Cascanueces, una caja de bolas de Navidad y luces para el árbol. ¿Cuánto ha costado la compra?

OPERACIÓN

=

SOLUCIÓN:



**4** Completa estas dos series navideñas:



# PROBLEMÁTICAS NAVIDEÑAS

5 Observa estos regalos y descubre cuánto ha costado cada uno:



$1D + 6U$



$6U + 7U$



$2D + 4U$



$2D + 3U$



$9U + 5U$



$1U + 2D$

a) ¿Cuál es el regalo más caro?

b) ¿Cuál es el regalo más barato?

c) Ordena los regalos del más barato al más caro:

6 Descubre a quién pertenece cada uno de los regalos de antes:

GUILLE



13 €

PRIMA DE  
GUILLE



23 €

PADRE DE  
GUILLE



16 €

TÍA DE  
GUILLE



14 €

PRIMO DE  
GUILLE



24 €

MADRE DE  
GUILLE



21 €

a) El regalo de Guille es

b) El regalo de la madre de Guille es

c) El regalo del padre de Guille es

d) El regalo de la tía de Guille es

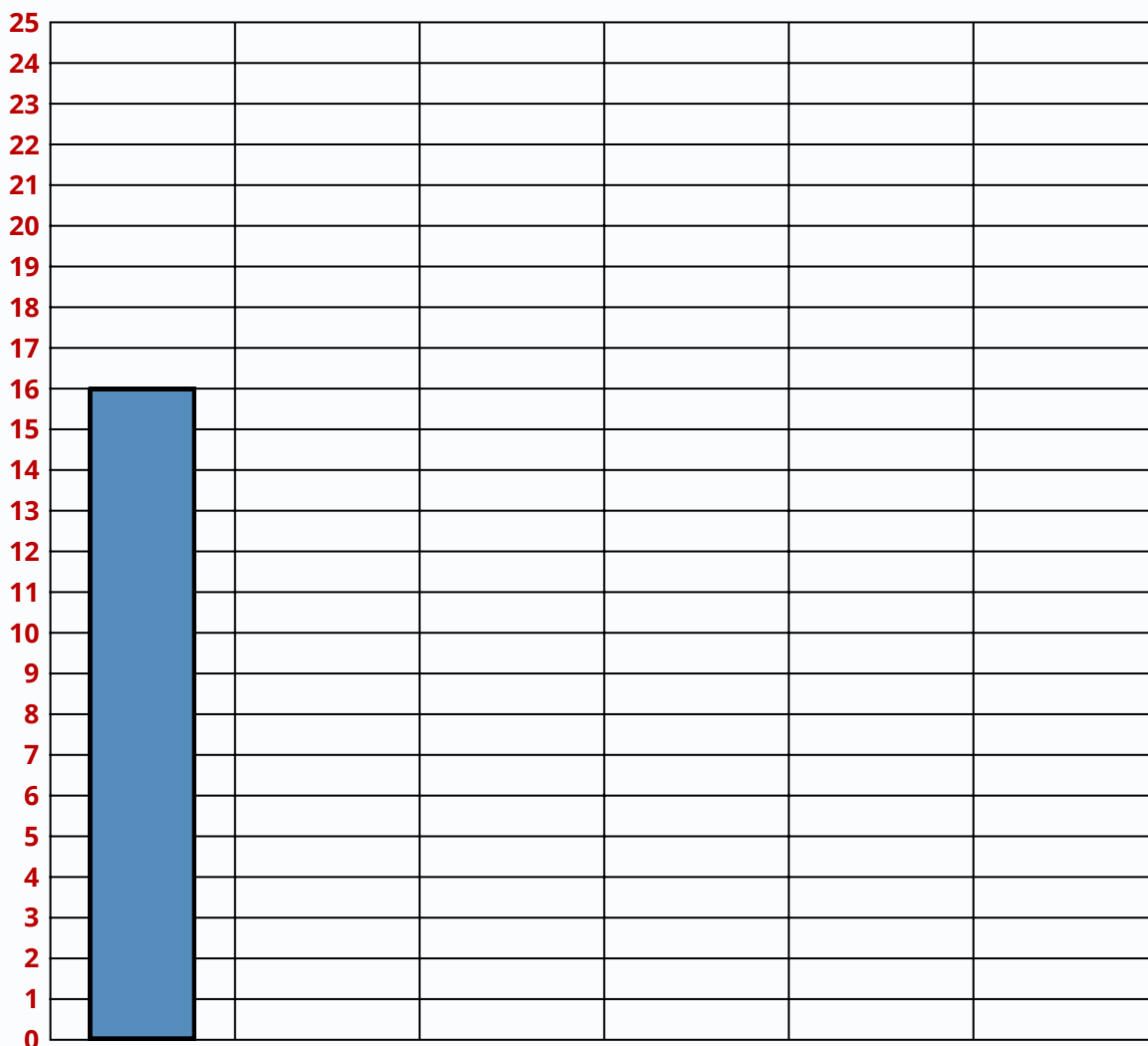
e) El regalo de la prima de Guille es

f) El regalo del primo de Guille es



# PROBLEMÁTICAS NAVIDEÑAS

7 Representa los precios de los regalos en este gráfico de barras:



8 Escribe CILINDRO, CUBO y ESFERA donde corresponda:




# PROBLEMÁTICAS NAVIDEÑAS


**9** ¿Qué regalo podemos comprar con estas cantidades de dinero?



**10** Si el padre de Guille compra la billetera y la pelota, ¿cuánto debe pagar?



Si paga con 30 €, ¿cuánto dinero le devuelven?



**11** Ya es 31 de diciembre y la familia de Guille está cenando. Mira la hora que es y responde:



a) ¿Qué hora es?

b) ¿Cuánto tiempo quedan para las campanadas?

