

Coordinado y editado por:



@recursosep



@maestrasenlanube

ProbleMÁTICAS

en el supermercado



De compras en el Lego-Súper



Emmet quiere hacer la compra en el LEGO-SÚPER. Está un poco perdido y necesita que lo ayudéis para poder hacer la compra.

- 1 Se ha levantado tan temprano que ha llegado al supermercado y estaba cerrado. Fíjate en los relojes y escribe qué hora de apertura y de cierre tiene el supermercado.



a) Si ha llegado a las 9:30 de la mañana, ¿cuánto tiempo falta para que abra el supermercado?

b) ¿Durante cuántas horas está abierto el supermercado si no cierra a mediodía?

c) Si Emmet ha tardado 45 min en hacer la compra, ¿a qué hora ha salido del supermercado?

d) Si hubiese tardado 15 minutos más, ¿a qué hora saldría?

Large dotted grid area for writing answers.



Reto 1: En la frutería

Emmet ha ido a la zona de la frutería. Ayúdalo a responder algunas cuestiones.



2 Ordena las frutas y verduras según su precio de mayor a menor.

3 Resuelve estos problemas. Utiliza las monedas para ayudarte.

Ha comprado 2 kg de manzanas y 1 kg de melocotones. ¿Cuánto dinero le ha costado?

Monedas/Operación

Solución: _____

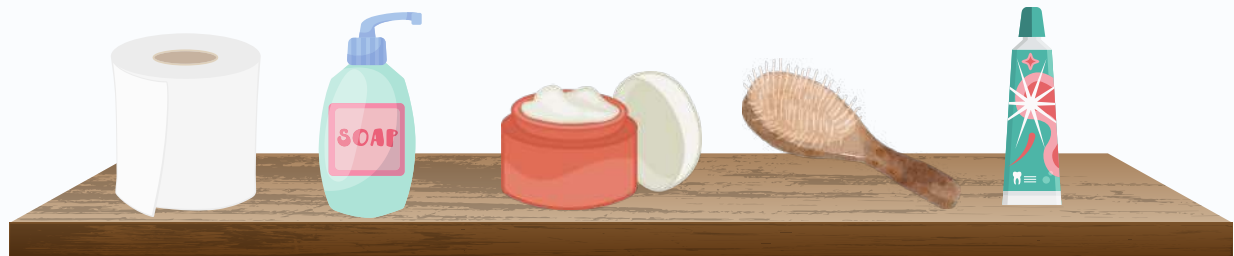
Después ha comprado 3 kg de patatas y 2 kg de cebollas. ¿Cuánto dinero le han costado?

Monedas/Operación

Solución: _____



Reto 2: En la droguería



1€

3€

4.25€

2.50€

1.50€

4 Dibuja las monedas o billetes que necesita Emmet en cada caso:

a) Compra jabón de manos, papel higiénico y pasta de dientes.
¿Cuánto gasta en total?

Solución:

b) ¿Cuál es el producto más caro?
Dibuja el dinero necesario para comprarlo.

Solución:

c) Dibuja de dos formas diferentes el dinero que Emmet necesita para comprar la pasta de dientes.



PROBLEMÁTICAS EN EL SUPERMERCADO

Reto 3: En el Pasillo de lácteos



5 Ordena los precios de los yogures de menor a mayor.

< < < < <

a) ¿Cuál es el yogur más barato?

b) ¿Cuál es el yogur más caro?

6 Emmet ha comprado 2 yogures desnatados y 2 yogures líquidos desnatados. ¿Cuánto dinero se ha gastado en los yogures?

Datos

yogures desnatados

yogures líquidos desnatados

Solución:

Operaciones



PROBLEMÁTICAS EN EL SUPERMERCADO

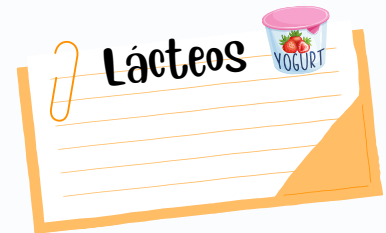
Reto 4: Hacemos la cuenta

Emmet va ahora a pagar todo. Recuerda que ha comprado en la frutería, en la droguería y en el pasillo de lácteos.



7 ¿Cuánto ha gastado en total?

Datos



Operaciones

Solución:

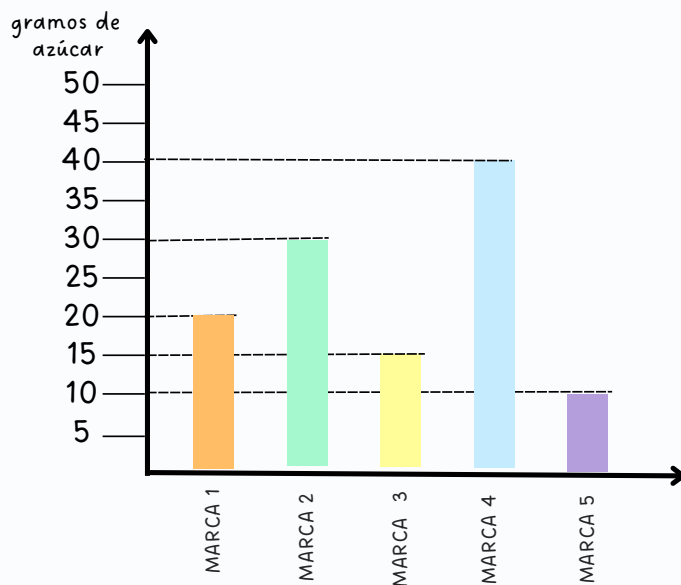
8 ¿Podría pagar la cuenta con un billete de 20 euros? ¿Por qué?

Rodea las monedas y los billetes que necesita Emmet para pagarlo todo.



Reto 5: En el Pasillo de helados

- 9 Emmet ha llegado al pasillo de los helados y se ha encontrado con una gráfica de los helados que más azúcar llevan. Fíjate en los datos y contesta a las siguientes preguntas.



- a) ¿Qué marca tiene más cantidad de azúcar?
- b) ¿Qué marca tiene menos azúcar?
- c) ¿Qué diferencia de azúcar hay entre las marcas 1 y 3?

- 10 Si cada 5 gramos equivale a 1 terrón de azúcar, ¿cuántos terrones de azúcar tomaríamos con cada marca?

Operaciones

Marca 1:

Marca 2:

Marca 3:

Marca 4:

Marca 5:



PROBLEMÁTICAS EN EL SUPERMERCADO

Reto 6: Nos movemos Por el Plano



- 11** Emmet está en su casa y recibe la llamada de su amiga Lucy. Hace un buen día y han decidido ir a al lago, pero primero quieren pasar por el supermercado para hacer algunas compras.

Escribe las indicaciones para llegar desde casa de Emmet al lago, pasando por el supermercado.



