

# EVALUACIÓN INICIAL

## MATEMÁTICAS • 2.º Primaria

Nombre y apellidos: .....

Curso: ..... Fecha: .....

**1** Realiza las siguientes operaciones.


	5	1
+	2	8
<hr/>		

	7	9
+	1	6
<hr/>		

	4	8
-	1	3
<hr/>		

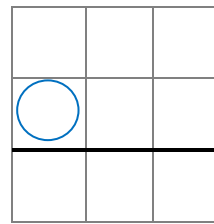
	8	1
-	2	6
<hr/>		

**2** En una cesta hay 24 pimientos rojos y 38 verdes. ¿Cuántos pimientos hay en total?



pimientos.

**3** Un libro tiene 72 páginas. Si ya he leído 45, ¿cuántas páginas me quedan por leer?



páginas.


**4** Completa la serie.

3      6            12      15                 

**5** Mide con tu regla.



El lápiz mide  cm.



**6** Observa y responde.




- a) ¿Cuánto gastaré si compro la agenda y el jersey?  €
- b) Si compro el spinner y pago con un billete de 5 €, ¿cuánto me devolverán?  €  cts.
- c) ¿Cuánto menos vale la mochila que el jersey?  €

**7** Completa los siguientes relojes con la hora que se indica.

Las cinco y media.



Las once en punto.



**8** Multiplica.

$3 \times 2 =$

$5 \times 6 =$

$6 \times 7 =$

$4 \times 5 =$

$5 \times 8 =$


$8 \times 9 =$

$5 \times 3 =$

$9 \times 5 =$

$3 \times 4 =$

$6 \times 8 =$

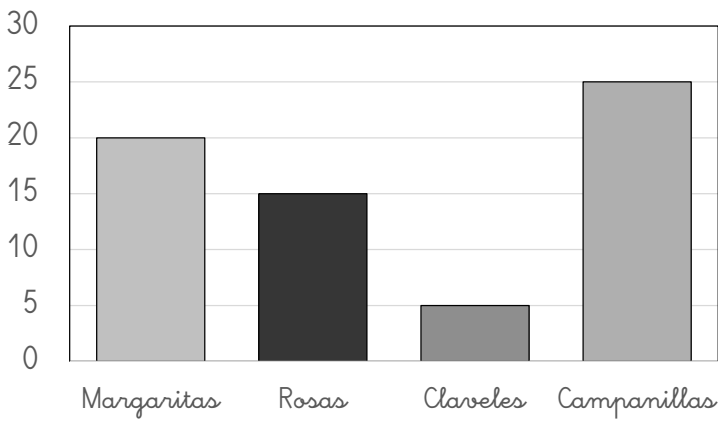


**9** Multiplica.

	3	8
×		2
<hr/>		

	1	4
×		5
<hr/>		

**10** Observa el gráfico y completa.



Margaritas

Rosas

Claveles

Campanillas

a) ¿De qué flores hay más?


b) ¿Y menos?


c) ¿Cuántas margaritas hay más que rosas?

**11** Completa.

	Doble
15	
26	
40	

	Mitad
10	
30	
64	

