

# EVALUACIÓN INICIAL

## MATEMÁTICAS ABN • 2.º Primaria

Nombre y apellidos: .....

Curso: .....

Fecha: .....

**1** Realiza las siguientes operaciones.

56 + 28		

79 + 19		

48 - 19		

81 - 26		

28 + 56 - 39			


81 - 18 - 63			

**2** En una cesta hay 24 pimientos rojos y 38 verdes. ¿Cuántos pimientos hay en total?


pimientos.

**3** Un libro tiene 72 páginas. Si ya he leído 45, ¿cuántas páginas me quedan por leer?


páginas.



**4** Observa y responde.



- a) ¿Cuánto gastaré si compro la agenda y el jersey?  €
- b) Si compro el spinner y pago con un billete de 5 €, ¿cuánto me devolverán?  €  cts.
- c) ¿Cuánto menos vale la mochila que el jersey?  €

**5** Completa los siguientes relojes con la hora que se indica.

Las cinco y media.



Las once en punto.




**6** Multiplica.

38 × 2		

14 × 5		

**7** Completa la serie.

3    6        12    15           

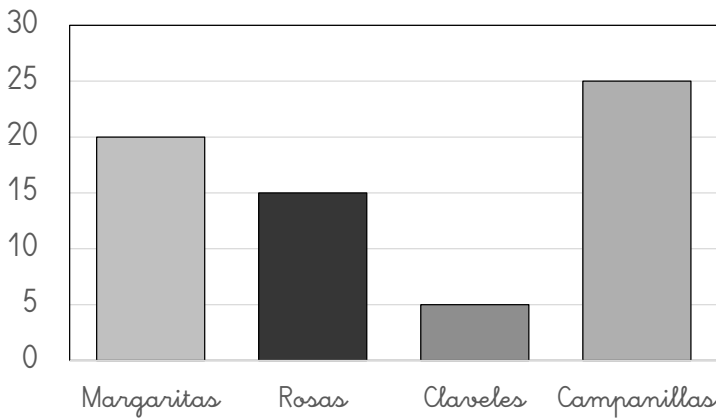


**8** Mide con tu regla.



El lápiz mide  cm.

**9** Observa el gráfico y completa.



Margaritas

Rosas

Claveles

Campanillas

a) ¿De qué flores hay más?


b) ¿Y menos?


c) ¿Cuántas margaritas hay más que rosas?

**10** Completa.

	Doble
15	
26	
40	

	Mitad
10	
30	
64	

**11** Tengo 45 caramelos. Si quiero guardarlos en bolsas de 5 caramelos, ¿cuántas bolsas necesitaré?


bolsas.

