




Cuerpos geométricos


Nombre: _____ Fecha: _____

Resuelve el crucigrama a partir de las definiciones y a continuación, escribe el número correspondiente debajo de cada dibujo.



1. Cuerpo redondo que no tiene caras y está formado por una única superficie curva.
2. Cuerpo redondo que tiene dos bases iguales que son círculos y una superficie lateral curva.
3. Poliedro formado por dos bases iguales y con paralelogramos como caras laterales.
4. Poliedro formado por una base y por triángulos como caras laterales.
5. Cuerpo redondo que tiene una base que es un círculo y una superficie lateral curva.

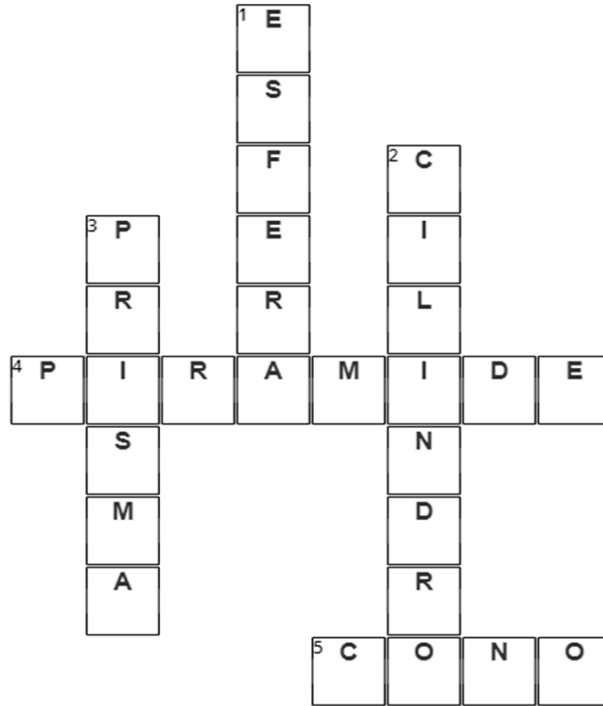




Cuerpos geométricos

Nombre: _____ Fecha: _____

Resuelve el crucigrama a partir de las definiciones y a continuación, escribe el número correspondiente debajo de cada dibujo.



1. Cuerpo redondo que no tiene caras y está formado por una única superficie curva.
2. Cuerpo redondo que tiene dos bases iguales que son círculos y una superficie lateral curva.
3. Poliedro formado por dos bases iguales y con paralelogramos como caras laterales.
4. Poliedro formado por una base y por triángulos como caras laterales.
5. Cuerpo redondo que tiene una base que es un círculo y una superficie lateral curva.



3



4



1



2



5