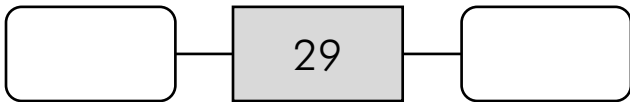


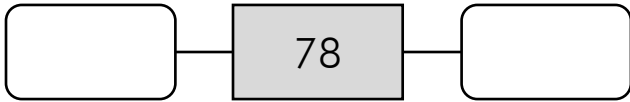





Numeración

Nombre: _____ Fecha: _____

- Escribe entre que dos **decenas** se encuentran los siguientes números.
Fíjate en el ejemplo.





Numeración

Nombre: _____

Fecha: _____

- Escribe entre que dos **centenas** se encuentran los siguientes números.
Fíjate en el ejemplo.



400 — 481 — 500

□ — 129 — □

□ — 803 — □

□ — 542 — □

□ — 296 — □

□ — 774 — □

□ — 658 — □

□ — 315 — □

□ — 189 — □

□ — 876 — □

□ — 420 — □

□ — 699 — □