

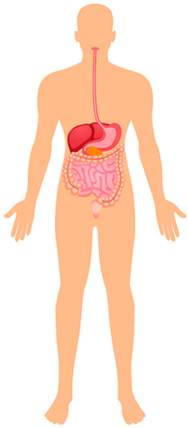


Órganos intrusos

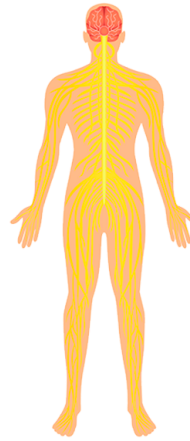
Nombre: _____

Fecha: _____

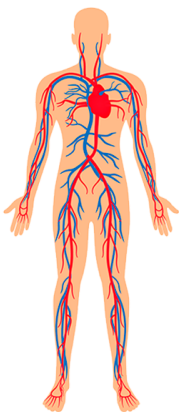
Escribe el nombre de cada sistema, a continuación identifica el órgano intruso de cada uno de ellos.



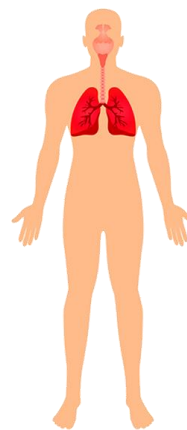
Esófago
Hígado
Boca
Bronquios
Páncreas
Estómago



Cerebro
Médula espinal
Fémur
Cerebelo
Nervios



Corazón
Aorta
Arteria
Capilares
Vejiga



Faringe
Alvéolos
Tráquea
Riñones
Pulmones
Diafragma

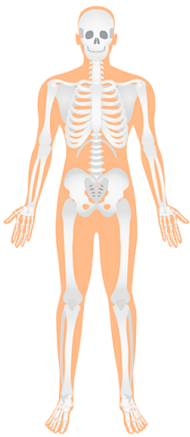


Órganos intrusos

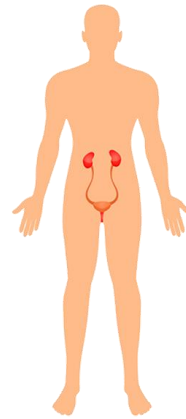
Nombre: _____

Fecha: _____

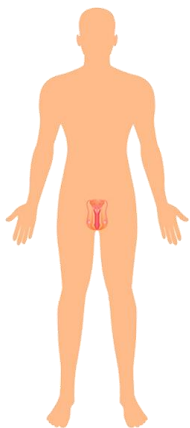
Escribe el nombre de cada sistema, a continuación identifica el órgano intruso de cada uno de ellos.



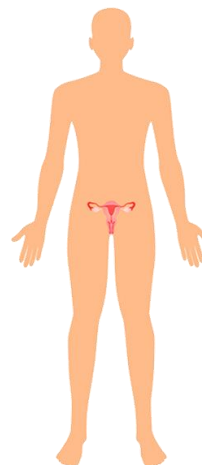
- Laringe
- Cráneo
- Radio
- Clavícula
- Tibia
- Costillas



- Riñón
- Intestino delgado
- Uretra
- Vejiga
- Uréter



- Pene
- Vesícula seminal
- Uretra
- Trompa de Falopio
- Testículos



- Útero
- Ovario
- Vagina
- Cuello uterino
- Próstata