

# actividades




















## Los números enteros

Nombre y apellidos: \_\_\_\_\_



Curso: \_\_\_\_\_

Fecha: \_\_\_\_\_

### 1. Asocia a cada situación una operación y un resultado.

SITUACIÓN	OPERACIÓN	RESULTADO
		
		
		
		
		
		
		
		
		
		
		
		
		
		
		
		
		
		
		

2. Asocia a cada situación una operación y calcula:

  = -2 + 3 = +1

      = +18 - 23 = -5



3. Y ahora calcula sin dibujos:

a)  $7 - 8$

b)  $-9 + 8$

c)  $-6 - 2$

d)  $7 + 1$

e)  $12 - 14$

f)  $-17 + 19$

g)  $10 + 25$

h)  $-16 - 15$

i)  $-15 + 9$

j)  $10 - 3 - 5 + 11$

k)  $-8 + 12 - 9 - 2$

l)  $9 - 2 - 3 + 4$

m)  $7 - 11 + 3 - 6$

n)  $6 - 13 + 4 + 3$

o)  $-11 - 4 + 18 - 4$

p)  $6 - 9 - 7 - 5 + 2 + 11$

q)  $15 + 18 - 11 - 7 - 21 + 27$

r)  $-9 + 12 - 16 + 25 - 18 - 4$

s)  $-44 - 16 + 8 + 33 + 23 - 5$

t)  $-3 - 17 - 21 - 9 - 17 + 57$