










NÚMEROS DECIMALES

Nombre y apellidos:

Curso:

Fecha:

- En la siguiente tabla aparecen reflejados los datos de la revisión médica de los alumnos de 3°. Obsérvala y responde a las preguntas.

	 Javier	 Marta	 Hugo	 Sara	 Carmen	 Tomás	 Luis
Peso	36,2 kg	29,8 kg	35,1 kg	32,3 kg	30,5 kg	34,6 kg	31,7 kg
Estatura	1,33 m	1,27 m	1,42 m	1,30 m	1,35 m	1,46 m	1,28 m

- Escribe el nombre de los tres alumnos que pesen menos.

- Escribe el nombre de los tres alumnos más altos.

- Ordena de menor a mayor los alumnos según su peso.

- Ordena de mayor a menor los alumnos según su estatura.
