




# LADOS, VÉRTICES Y ÁNGULOS

Nombre y apellidos: .....

Curso: .....

Fecha: .....

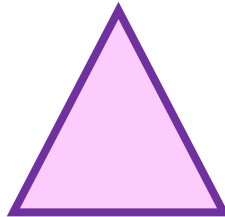
Escribe el nombre de cada polígono en el recuadro de arriba.  
A continuación escribe su número de lados, ángulos y vértices:



lados

ángulos

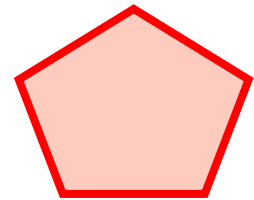
vértices



lados

ángulos


vértices



lados

ángulos

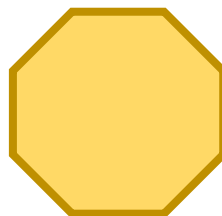
vértices



lados

ángulos


vértices



lados

ángulos

vértices



lados

ángulos

vértices

# LADOS, VÉRTICES Y ÁNGULOS

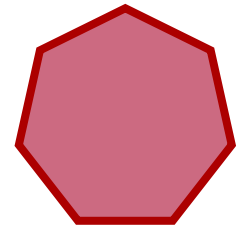

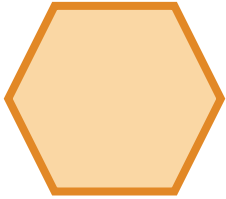


Nombre y apellidos: .....

Curso: .....

Fecha: .....

Escribe el nombre de cada polígono en el recuadro de arriba.  
A continuación escribe su número de lados, ángulos y vértices:



lados

lados

lados

ángulos




ángulos

ángulos

vértices

vértices

vértices



lados

lados

lados

ángulos

ángulos

ángulos

vértices

vértices

vértices