



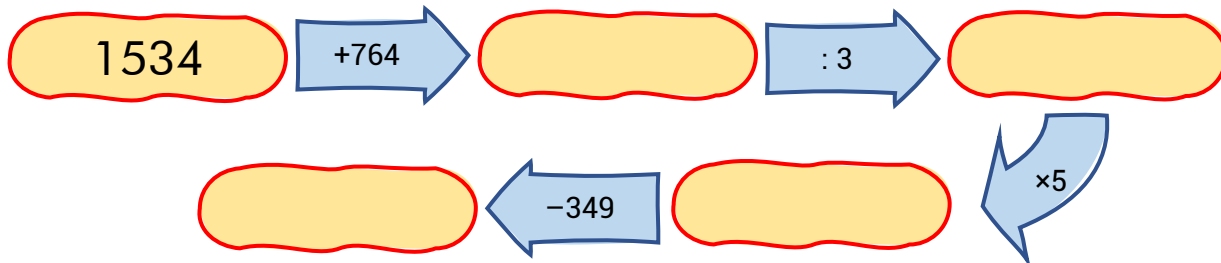
# CADENA DE OPERACIONES

Nombre y apellidos: .....

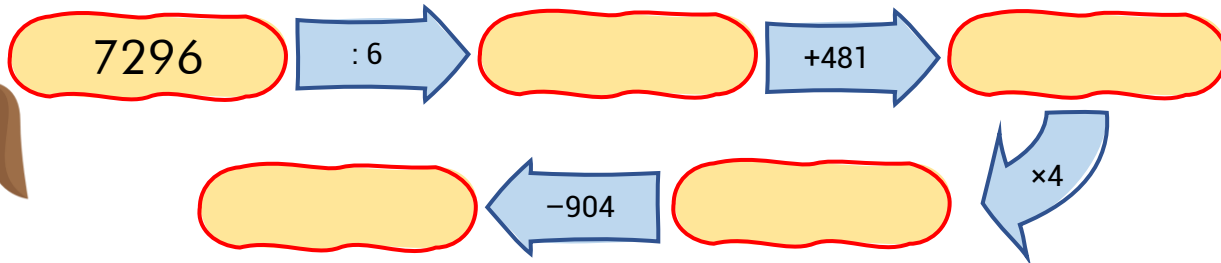

Curso: .....

Fecha: .....

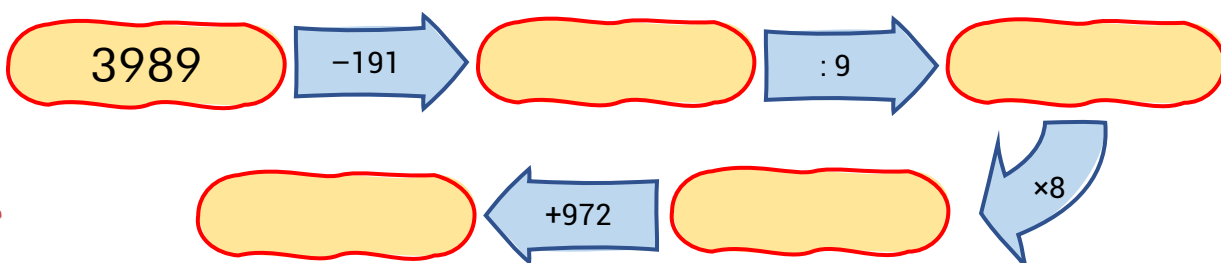

Adivina qué monumento ha visitado cada personaje resolviendo estas cadenas de operaciones. Marca la opción correcta y colorea el monumento visitado.




- Torre Eiffel
- Taj Mahal
- Gran muralla China



- Sagrada Familia
- Torre de Pisa
- Estatua de la Libertad



- Big Ben
- Arco del Triunfo
- Acueducto de Segovia





# CADENA DE OPERACIONES

Nombre y apellidos: .....

Curso: .....

Fecha: .....

Adivina qué monumento ha visitado cada personaje resolviendo estas cadenas de operaciones. Marca la opción correcta y colorea el monumento visitado.



2607


+3528

:5

-609

x7

- Moáis
- Coliseo romano
- Tower bridge



7776



:9

+3284

-3317

x2

- Catedral de Notre Dame
- Partenón de Atenas
- Alhambra de Granada



9488

-2654

:6

+887

x8

- Atomium
- London Eye
- Casa Blanca

