



CÁLCULO MENTAL: SUMAS Y RESTAS

Nombre y apellidos:

Curso:

Fecha:

Escribe el número correcto

$3 + \square = 7$

$\square + 9 = 15$

$\square + 2 = 10$

$5 + \square = 14$

$6 + \square = 13$

$\square + 3 = 5$

$4 + \square = 8$

$\square + 6 = 11$

$\square + 8 = 17$

$6 + \square = 12$

$4 + \square = 9$

$\square + 5 = 12$

$8 + \square = 16$

$\square + 9 = 11$



CÁLCULO MENTAL: SUMAS Y RESTAS

Nombre y apellidos:

Curso:

Fecha:

Escribe el número correcto

$6 - \square = 2$

$\square - 2 = 7$

$\square - 3 = 4$

$4 - \square = 1$

$8 - \square = 6$

$\square - 5 = 5$

$6 - \square = 3$

$\square - 5 = 4$

$\square - 6 = 5$

$9 - \square = 6$

$10 - \square = 4$

$\square - 7 = 7$

$13 - \square = 6$

$\square - 4 = 8$

CÁLCULO MENTAL: SUMAS Y RESTAS



Nombre y apellidos:

Curso:

Fecha:

Resuelve:

$$2 - 6 - 3$$

	9	4
7	5	
	1	8

= 15

=
15

$$7 - 1 - 9 - 8$$

6		2
	5	
	3	4

= 15

=
15



$$4 - 5 - 2 - 8 - 9$$

	3	
		1
	7	6

= 15

=
15

$$9 - 7 - 3 - 1 - 8$$

2		6
	5	
4		

= 15

=
15



CÁLCULO MENTAL: SUMAS Y RESTAS



Nombre y apellidos:

Curso:

Fecha:

Resuelve:

$6 - 4 - 8 - 2 - 3$

	9	
	5	7
	1	

= 15

=
15

$5 - 8 - 9 - 3 - 6$

2		4
7		
	1	

= 15

=
15



$2 - 7 - 6 - 3 - 8$

	1	
	5	
	9	4

= 15

=
15

$3 - 7 - 4 - 1 - 2$

8		
	5	9
6		

= 15

=
15



CÁLCULO MENTAL: SUMAS Y RESTAS

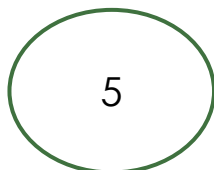


Nombre y apellidos:

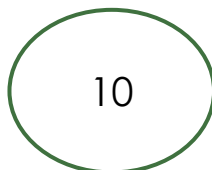

Curso:

Fecha:

Colorea sólo aquellas operaciones cuyo resultado den la cifra que aparece en el círculo



$2 + 3$	$3 + 1$	$6 - 2$	$7 - 4$	$7 - 2$
$9 - 6$	$4 + 1$	$10 - 2$	$3 + 3$	$4 + 2$
$5 + 0$	$4 + 2$	$8 - 3$	$10 - 5$	$4 + 7$
$9 - 3$	$6 - 1$	$1 + 4$	$7 - 3$	$8 - 5$



$7 + 4$	$15 - 5$	$8 + 3$	$5 + 5$	$9 - 2$
$6 + 4$	$8 + 5$	$9 + 2$	$13 - 2$	$7 + 3$
$11 - 1$	$8 + 2$	$5 + 6$	$12 - 3$	$2 + 6$
$4 + 8$	$20 - 10$	$6 + 6$	$15 - 5$	$13 - 4$

CÁLCULO MENTAL: SUMAS Y RESTAS

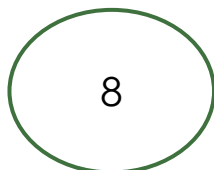


Nombre y apellidos:

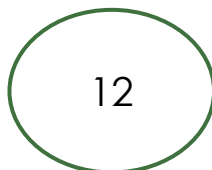
Curso:

Fecha:

Colorea sólo aquellas operaciones cuyo resultado den la cifra que aparece en el círculo



$3 + 3$	$9 - 1$	$6 + 4$	$7 + 2$	$3 + 5$
$16 - 8$	$12 - 2$	$4 + 4$	$12 - 5$	$7 + 1$
$12 - 4$	$4 + 5$	$6 + 3$	$10 - 2$	$5 + 4$
$11 - 6$	$18 - 10$	$11 - 3$	$7 + 3$	$4 + 2$



$5 + 7$	$8 + 8$	$14 - 4$	$13 - 1$	$10 + 3$
$15 - 2$	$6 + 6$	$16 - 5$	$10 + 2$	$9 + 2$
$8 + 4$	$16 - 4$	$17 - 5$	$9 + 4$	$7 + 7$
$18 - 5$	$9 + 3$	$7 + 6$	$19 - 7$	$5 + 4$

CÁLCULO MENTAL: SUMAS Y RESTAS

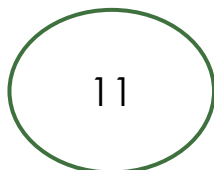


Nombre y apellidos:

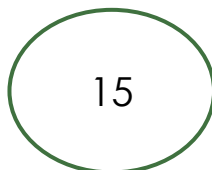
Curso:

Fecha:

Colorea sólo aquellas operaciones cuyo resultado den la cifra que aparece en el círculo



$5 + 6$	$15 - 2$	$3 + 9$	$14 - 3$	$15 - 4$
$6 + 6$	$8 + 3$	$16 - 3$	$17 - 5$	$7 + 4$
$18 - 7$	$16 - 4$	$9 + 2$	$20 - 6$	$15 - 3$
$8 + 4$	$10 + 1$	$13 - 3$	$19 - 7$	$5 + 5$



$13 + 3$	$7 + 8$	$16 - 4$	$17 - 2$	$10 + 5$
$18 - 5$	$8 + 8$	$13 + 4$	$5 + 3$	$20 - 5$
$12 + 3$	$9 + 1$	$16 - 1$	$18 - 3$	$7 + 7$
$9 + 6$	$19 - 4$	$8 + 3$	$16 - 3$	$17 - 2$

CÁLCULO MENTAL: SUMAS Y RESTAS



Nombre y apellidos:

Curso:

Fecha:

Completa con el número correcto:

1. $2 \xrightarrow{+3} 5 \xrightarrow{-1} 4 \xrightarrow{+2} 6 \xrightarrow{+3} \square \xrightarrow{-2} \square$

2. $5 \xrightarrow{-2} \square \xrightarrow{+4} \square \xrightarrow{+3} \square \xrightarrow{-2} \square \xrightarrow{-3} \square$

3. $4 \xrightarrow{+5} \square \xrightarrow{+6} \square \xrightarrow{+4} \square \xrightarrow{-1} \square \xrightarrow{-2} \square$

4. $8 \xrightarrow{-4} \square \xrightarrow{+5} \square \xrightarrow{+3} \square \xrightarrow{-7} \square \xrightarrow{+4} \square$

5. $6 \xrightarrow{+6} \square \xrightarrow{-3} \square \xrightarrow{-5} \square \xrightarrow{+4} \square \xrightarrow{-1} \square$

6. $3 \xrightarrow{+8} \square \xrightarrow{-9} \square \xrightarrow{+2} \square \xrightarrow{-3} \square \xrightarrow{+7} \square$

CÁLCULO MENTAL: SUMAS Y RESTAS



Nombre y apellidos:

Curso:

Fecha:

Completa con el número correcto:

7. $10 \xrightarrow{-5} \square \xrightarrow{+8} \square \xrightarrow{-6} \square \xrightarrow{+4} \square \xrightarrow{+5} \square$

8. $7 \xrightarrow{-4} \square \xrightarrow{+10} \square \xrightarrow{+4} \square \xrightarrow{+2} \square \xrightarrow{-9} \square$

9. $5 \xrightarrow{+9} \square \xrightarrow{-4} \square \xrightarrow{+6} \square \xrightarrow{-4} \square \xrightarrow{+2} \square$

10. $6 \xrightarrow{+3} \square \xrightarrow{+5} \square \xrightarrow{-10} \square \xrightarrow{+6} \square \xrightarrow{-7} \square$

11. $9 \xrightarrow{-3} \square \xrightarrow{+6} \square \xrightarrow{-4} \square \xrightarrow{+8} \square \xrightarrow{+4} \square$

12. $10 \xrightarrow{+5} \square \xrightarrow{-2} \square \xrightarrow{-6} \square \xrightarrow{+7} \square \xrightarrow{+1} \square$

CÁLCULO MENTAL: SUMAS Y RESTAS

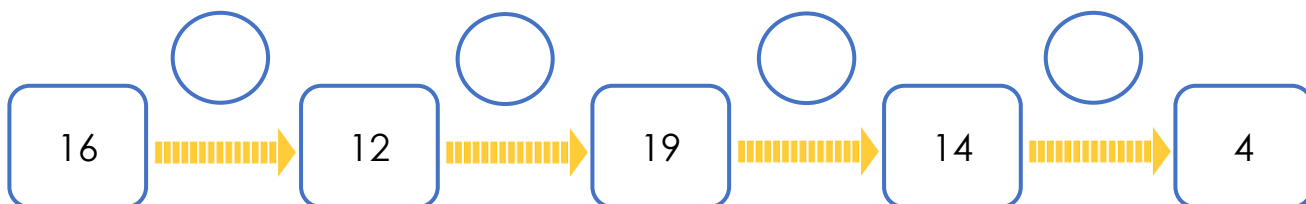
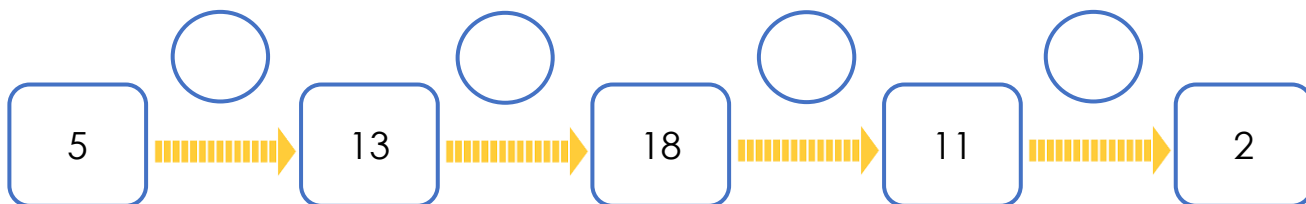
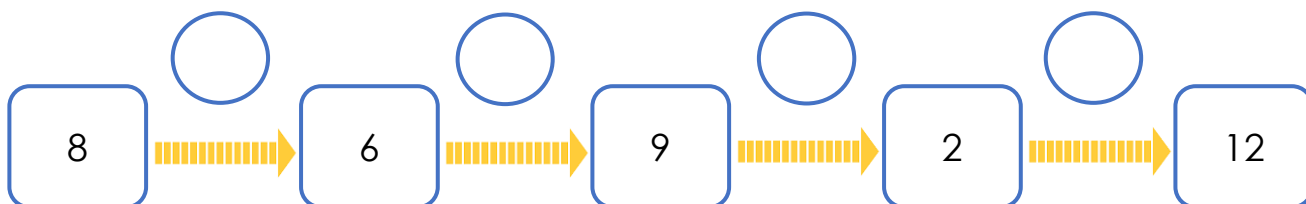
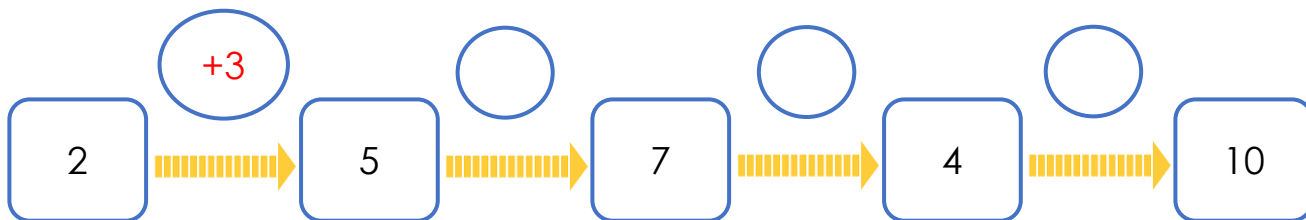


Nombre y apellidos:

Curso:

Fecha:

Escribe en el círculo el número y la operación necesaria para continuar la serie.



CÁLCULO MENTAL: SUMAS Y RESTAS



Nombre y apellidos:

Curso:

Fecha:

Escribe en el círculo el número y la operación necesaria para continuar la serie.

