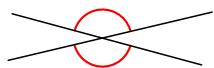


# Matemáticas Relaciones angulares

Nombre y apellidos: .....

Relaciona los elementos de las tres columnas:



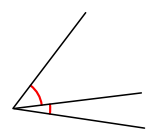
CONSECUTIVOS

Tienen un lado común y el otro en una misma recta.



ADYACENTES

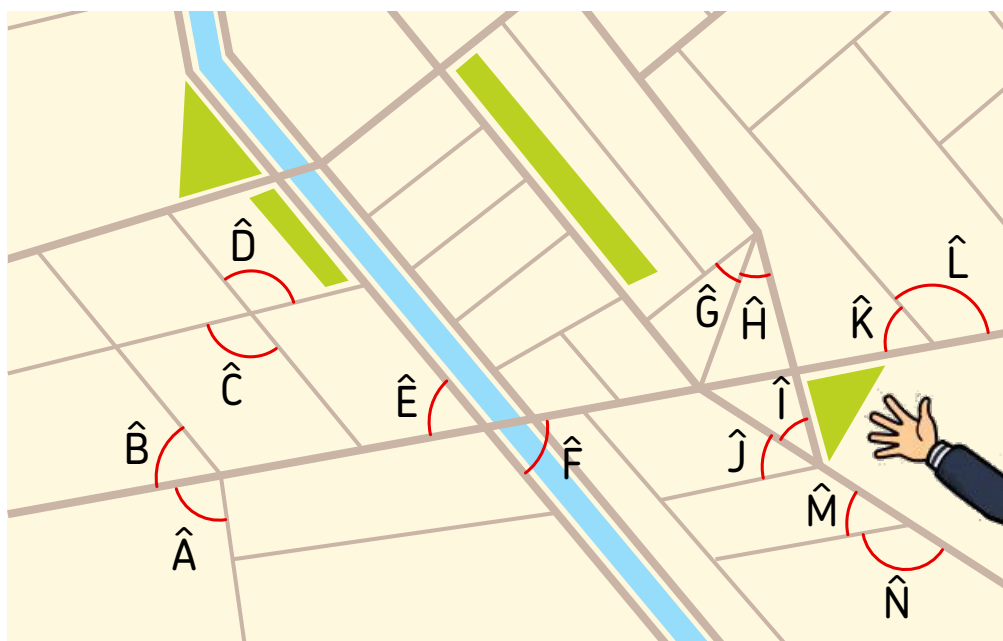
Tienen el mismo vértice y los lados en prolongación.



OPUESTOS POR EL VÉRTICE

Tienen el mismo vértice y un lado común.

Observa el siguiente mapa y completa:



- a) Los ángulos  $\hat{A}$  y  $\hat{B}$  son .....
- b) Los ángulos  $\hat{C}$  y  $\hat{D}$  son .....
- c) Los ángulos  $\hat{E}$  y  $\hat{F}$  son .....
- d) Los ángulos  $\hat{G}$  y  $\hat{H}$  son .....
- e) Los ángulos  $\hat{I}$  y  $\hat{J}$  son .....
- f) Los ángulos  $\hat{K}$  y  $\hat{L}$  son .....
- g) Los ángulos  $\hat{M}$  y  $\hat{N}$  son .....