

Nombre y apellidos:

■ Repasa del mismo color los recuadros que representen los mismos números:

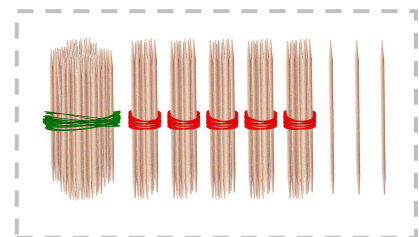
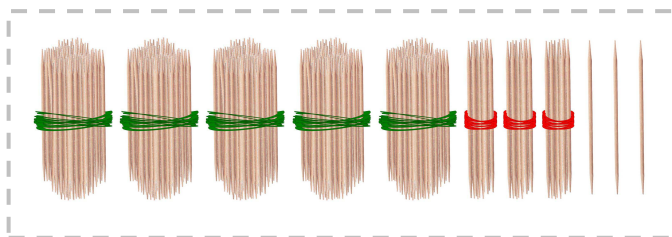


533 605 235 497 153

100 + 50 + 3 400 + 90 + 7 200 + 30 + 5

500 + 30 + 3 600 + 5

6 C 5 U 2 C 3 D 5 U 5 C 3 D 3 U

1 C 5 D 3 U 4 C 9 D 7 U



Nombre y apellidos:

■ Ordena de menor a mayor estos números y coloca el signo correspondiente:

273

157

256

175

265

□ ○ □ ○ □ ○ □ ○ □

■ Averigua los siguientes números:

Soy el anterior al 435.

□

□

□

Tengo dos decenas más que el 352.

Soy el posterior al 249.

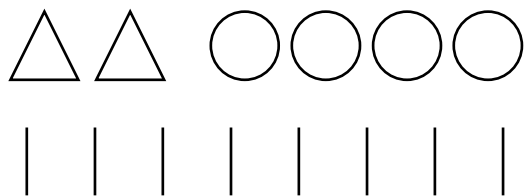
□

Soy el número más grande con una centena.

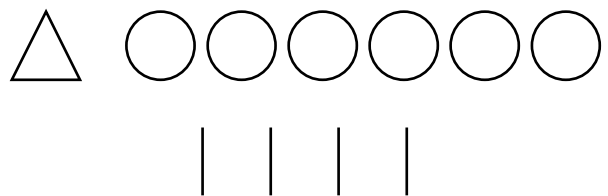
Tengo una centena menos que el 544.

□

■ Averigua qué números representan estos símbolos:



□



□

