

Nombre y apellidos:

■ Repasa del mismo color los recuadros que representen los mismos números:

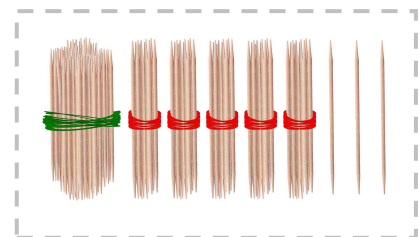
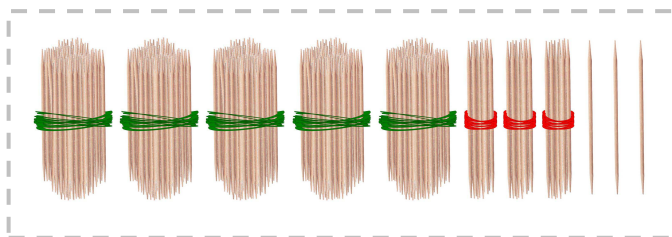


533 605 235 497 153

$100 + 50 + 3$ $400 + 90 + 7$ $200 + 30 + 7$

$500 + 30 + 3$ $600 + 5$

3 C 35 U 1 C 11 D 25 U 4 C 3 D 103 U

1 C 2 D 33 U 1 C 34 D 57 U



Nombre y apellidos:

■ Ordena de menor a mayor estos números y coloca el signo correspondiente:

273	157	256	175	265
	○		○	
	○		○	

■ Averigua los siguientes números:

Soy el anterior al 435.

Tengo dos decenas más que el 352.

Soy el posterior al 249.

Soy el número más grande con una centena.

Tengo una centena menos que el 544.

■ Averigua qué números representan estos símbolos:

△ △ ○ ○ ○ ○		△ ○ ○ ○ ○ ○ ○ ○ ○

