

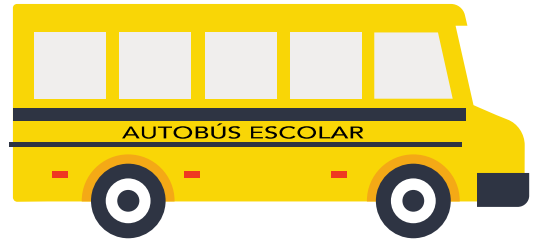
Projecte Anem al cinema

Nom i cognoms:

Data: Curs:

Hui la classe de 4t de Primària anem al cinema.

En aquest projecte calcularem el preu de l'excursió.



■ LLOGUEM L'AUTOBÚS

DADES:

- Llogar l'autobús costa 115,50 €.
- A classe hi ha 33 persones: 32 alumnes i el mestre.
- L'autobús té 42 places disponibles.

Si tots els alumnes de la classe van a l'excursió, quant ha de pagar cadascú?

.....

En cas de completar totes les places, quant ha de pagar cada persona?

.....

Quants diners de menys haguera pagat cadascú en aquest cas?

..... =

.....

■ COMPREM LES ENTRADES

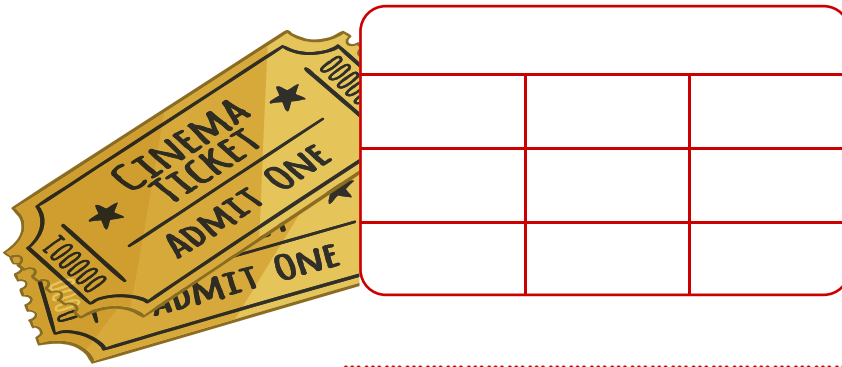
El preu de l'autobús per persona és 0,95 € menys que l'entrada al cinema.

Quina pel·lícula van veure?

..... =



Quants diners deixen en total en la taquilla del cinema?



.....

■ DEMANEM LES ROSES

Esbrina el preu d'aquests productes.

ROSES	
€	cts.
1,12	123
..... €	

REFRESC	
€	cts.
0,09	111
..... €	

AIGUA	
€	cts.
0,87	8
..... €	

Quant pagarà una persona que pren roses i refresc?

..... ○ =

Quant pagarà una persona que pren roses i aigua?


..... ○ =

Quant de menys paga una persona que pren aigua que una altra que pren refresc?

..... =

Dihuit persones prenen roses i refrescs.

La resta prenen roses i aigua.



Quants diners deixem en total en la tenda del cinema?





■ CALCULEM EL PREU TOTAL

Quant li costa l'excursió a una persona que pren roses i refresc?

..... =

.....

Quant li costa l'excursió a una persona que pren roses i aigua?

..... =

.....

Quants diners arregarà en total el mestre?

..... =

.....