

Nombre y apellidos:

Curso:

Fecha:

1 Realiza las siguientes operaciones.

56 + 28		

79 + 19		

48 - 19		

81 - 26		

28 + 56 - 39			


81 - 18 - 63			

2 En una cesta hay 24 pimientos rojos y 38 verdes. ¿Cuántos pimientos hay en total?

pimientos.

3 Un libro tiene 72 páginas. Si ya he leído 45, ¿cuántas páginas me quedan por leer?

páginas.





4 Observa y responde.




- a) ¿Cuánto gastaré si compro la agenda y el jersey? €
- b) Si compro el spinner y pago con un billete de 5 €, ¿cuánto me devolverán? €
- c) ¿Cuánto menos vale la mochila que el jersey? €

5 Completa los siguientes relojes con la hora que se indica.

Las cinco y media.



Las once en punto.




6 Multiplica.

38 × 2		

14 × 5		

7 Completa la serie.

3 6 12 15

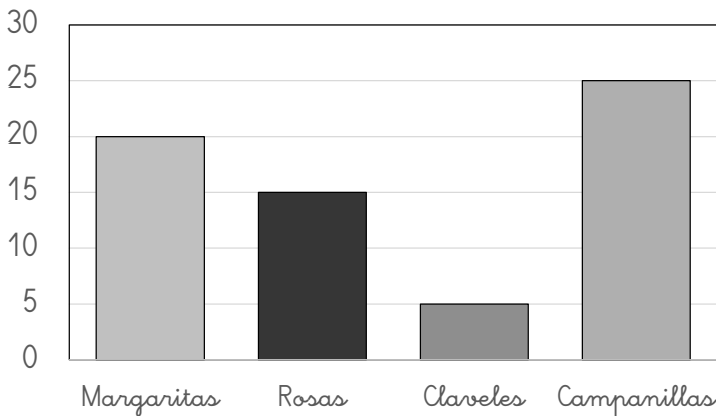


8 Mide con tu regla.



El lápiz mide cm.

9 Observa el gráfico y completa.



Margaritas

Rosas

Claveles

Campanillas

a) ¿De qué flores hay más?

b) ¿Y menos?

c) ¿Cuántas margaritas hay más que rosas?

10 Completa.

	Doble
15	
26	
40	

	Mitad
10	
30	
64	

11 Tengo 45 caramelos. Si quiero guardarlos en bolsas de 5 caramelos, ¿cuántas bolsas necesitaré?

bolsas.

