



Nombre y apellidos:

● Calcula.


629×2




418×3



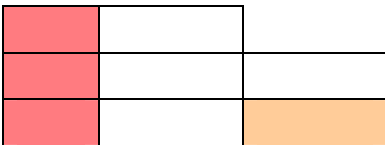
731×4




629×5




284×6




396×7



547×8




975×9




● Escribe un problema con la palabra **agenda** para la operación 512×6 y resuélvelo.

.....



Solución:

● En una pescadería se han vendido 6 cajas de merluza con 118 merluzas cada una. ¿Cuántas merluzas se han vendido?




Operación:

.....

Solución:

.....

● Una fábrica de neumáticos tiene que fabricar ruedas para 327 camiones. Si cada camión necesita 6 ruedas, ¿cuántas ruedas se necesitan fabricar en total?



Operación:

.....

Solución:

.....