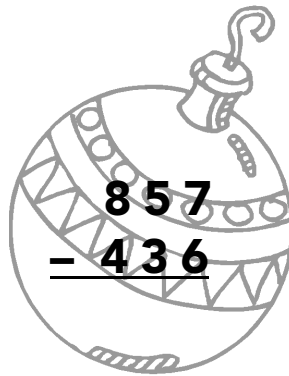

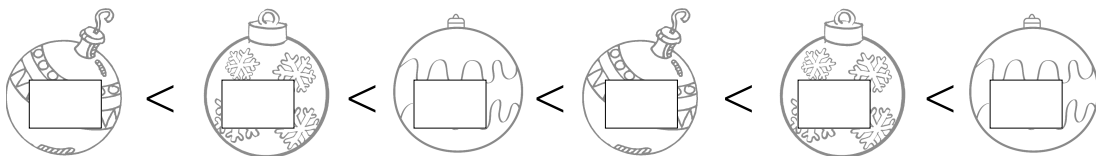


- 1 Realiza las siguientes operaciones y colorea las bolas con resultado impar.



- 2 Si hoy es 17 de diciembre, ¿cuántos días faltan para Navidad?
- 3 Raúl tiene ahorrados 25 euros y quiere comprarse un CD de villancicos que cuesta 17,50 € y una pandereta que vale 3 €. ¿Cuánto dinero se gastará en total? ¿Cuánto le sobrará?
- 4 Ordena de menor a mayor estos números:

282 - 783 - 901 - 135 - 522 - 492



- 5 Continúa la serie:

